



آموزش و پرورش ناحیه یک تبریز

دبستان پسرانه غیردولتی **سراج** تبریز

تاریخ آزمون: ۱۴۰۱/۲/۲۴

کلاس: دوم

آزمون ریاضی (نوبت دوم)

نتیجه ارزشیابی:

نام آموزگار: بایرام نژاد

نام خانوادگی:

نام:

سوالات

ردیف

۱- پسرم الگوهای عددی زیر را کامل کنید

۱۲, ۹, ----, ----, ----

----, ----, ----, ۷, ۴, ۲, ۱

----, ۶۱, ----, ----, ۵۸, ----, ----, ----

----, ----, ----, ۲۵۰, ۲۴۰, ۲۳۰

۲- تکالیف ریاضی و علوم محسن ۷۷ دقیقه طول کشیده است. اگر تکالیف علوم او ۲۹ دقیقه زمان برده باشد محسن چند دقیقه تکالیف ریاضی انجام داده است؟

۳- گم جمع و تفریق های زیر را انجام دهید

۳۷۱

+ ۲۲۹

۷۰۰

- ۱۶۹

تکنیکی

۶۰۲

+ ۱۳۳

۷۲۱

- ۴۰۲

فرایندی



آموزش و پرورش ناحیه یک تبریز

دبستان پسرانه غیردولتی سراج تبریز

تاریخ آزمون: ۱۴۰۱/۲/۲۴

کلاس: دوم

آزمون ریاضی (نوبت دوم)

نام خانوادگی:

نام آموزگار: بایرام نژاد

نتیجه ارزشیابی:

سوالات

ردیف

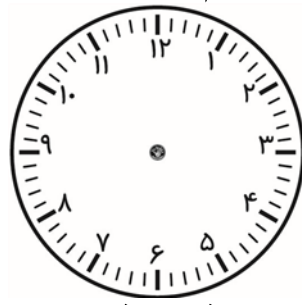
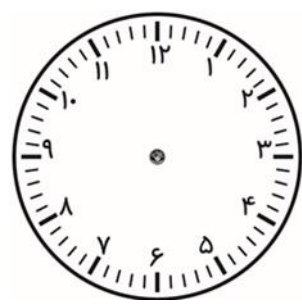
عزیزم جمع و تفریق های زیر را با روش تقریب انجام بده

۸۱۰	۳۹۲	حذف یکان و دهگان
-۲۸۳	+۲۴۵	۷۲۷
-----	-----	- ۳۲۳

عزیزم با سه کارت ۲ و ۳ و ۹ عدد های سه رقمی بساز که الف) دهگان آن بیشتر از یکان و صدگان کمتر از یکان باشد

ب) مجموع یکان و دهگان بیشتر از صدگان باشد

عزیزم ساعت های زیر را نشان بده



یک ساعت و نیم بعد از ساعت ۱۰:۳۰

۱۰ دقیقه قبل از ۲:۲۰

۴۷۱ =

۷۰۹ =

عزیزم عددهای زیر را باز کن



آموزش و پرورش ناحیه یک تبریز

دبستان پسرانه غیردولتی سراج تبریز

تاریخ آزمون: ۱۴۰۱/۲/۲۴

کلاس: دوم

آزمون ریاضی (نوبت دوم)

نتیجه ارزشیابی:

نام آموزگار: بایرام نژاد

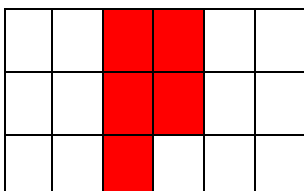
نام خانوادگی:

نام:

سوالات

ردیف

۸- پسر گلم جاهای خالی را پر کن
۱۲ میلی متر همان ---- سانتی متر ---- میلی متر است
۶ سکه ۱۰۰ ریالی و ۲ سکه یا ریالی و ۳ سکه ۵۰ ریالی می شود ----
تقارن خطی است که -----
عدد ۶۷ عددی زوج است یا فرد؟
اندازه شکل روبرو --- قسمت از ----- است



۹- یک کتاب داستان ۲۷۶ صفحه دارد. امین ۱۳۹ صفحه را تا شنبه خوانده بود. روز شنبه ۳۸ صفحه دیگر خواند. چند صفحه برایش باقی مانده است؟

۱۰- در یک روستا ۶ دانش آموز تعداد گوسفندان خود را شمردند و در کلاس اعلام کردند. آموزگار جدول زیر را درست کرد. پسر با کامل کردن جدول نمودار تصویری تعداد گوسفندان را رسم کن (برای هر ۱۰ گوسفند یک دایره بکش)

نام	محمد	حسین	حسن	علی	احمد	محمود
تعداد گوسفندان	۳۰	۲۵	۱۹	۴۷	۱۲	۳۲
تعداد تقریبی						

محمد حسین حسن علی احمد محمود

موفق باشی عزیزم (بایرام نژاد)